



COLEGIO : GABRIELA MISTRAL
 ASIGNATURA : HISTORIA
 UNIDAD : ¿CÓMO NOS UBICAMOS EN EL PLANETA?
 DOCENTE : MARIELA SÁEZ YÁÑEZ
 CURSO : TERCER AÑO

GUÍA NÚMERO 5

OBJETIVO ESPECÍFICO

- Identificar y ubicar en mapas las principales zonas climáticas del mundo y dar ejemplos de distintos paisajes que pueden encontrarse en estas zonas.

INSTRUCCIONES:

- Escribe con lápiz grafito.
- Responde la guía en un lugar habilitado de tu casa para trabajar.
- Responde en tu texto de Historia las páginas 47, 48, 49, 50 Y 51
- Como material de apoyo observa el video explicativo en :
<https://www.youtube.com/watch?v=lrH9A1bLSDM&t=17s>
<https://www.youtube.com/watch?v=Q506vu4X5kQ&t=3s>



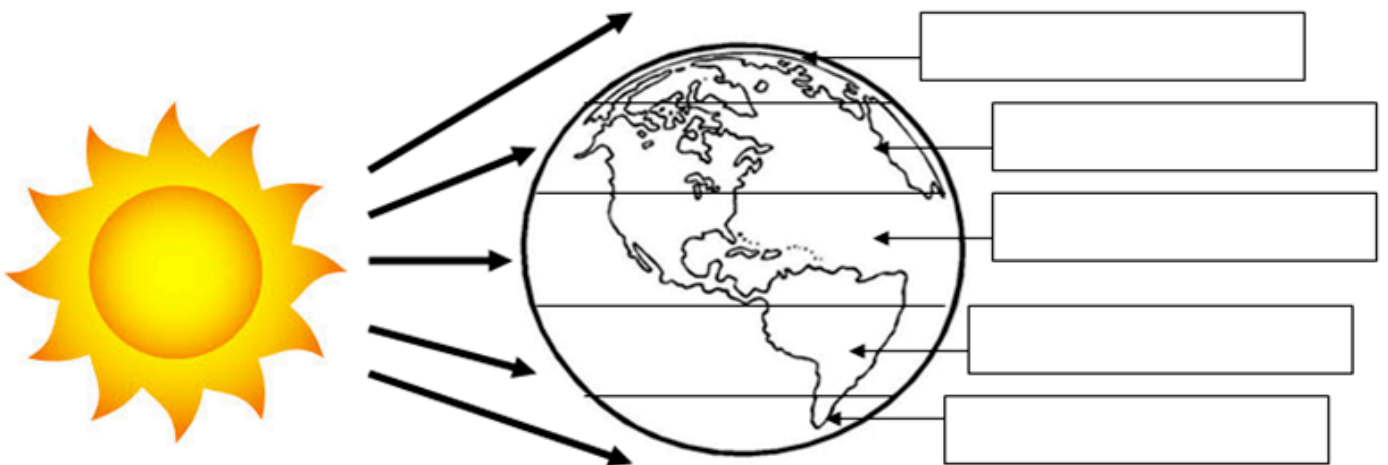
RECUERDA QUE:

En el planeta existen distintos **climas**, es decir, distintas condiciones de la atmósfera como la **temperatura y la lluvia**, que son medidas en períodos prolongados de tiempo (treinta a cien años).

Estos dan origen a **diferentes paisajes**, algunos con **mucha vegetación** y otros **muy áridos**. Lo anterior ocurre porque **los rayos solares se distribuyen de manera desigual** en la superficie terrestre.

La energía del **Sol llega en forma más directa** a las zonas cercanas a la **línea del ecuador**, las cuales en consecuencia son **más cálidas**; a medida que nos acercamos a **los polos** las **temperaturas son más bajas**.

1. ESCRIBE EL NÚMERO DE CADA ZONA CLIMÁTICA EN EL LUGAR QUE CORRESPONDE.
 (Observa la página 46)



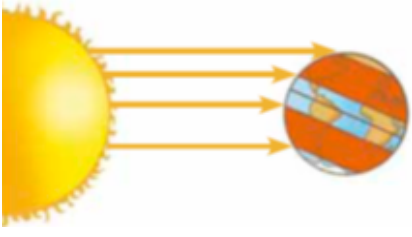





1 Zona cálida.	2 Zona fría del sur.	3 Zona templada del sur.	4 Zona fría del norte.	5 Zona templada del norte.
-------------------	-------------------------	-----------------------------	---------------------------	-------------------------------

2. ESCRIBE LA ZONA CLIMÁTICA REPRESENTADA EN CADA IMAGEN.

		
A.	B.	C.




3. ESCRIBE LETRA DE CADA ZONA CLIMÁTICA EN EL TIPO DE PAISAJE QUE CORRESPONDA.

<p>A. ZONA FRÍA</p> 	<p>B. ZONA CÁLIDA</p> 	<p>C. ZONA TEMPLADA</p> 
--	---	--

<p>Paisaje mediterráneo</p>  <p>Región de Piamonte, Italia.</p>	<p>Paisaje de taiga</p>  <p>Bosque boreal en Noruega.</p>	<p>Selva</p>  <p>Selva amazónica, América del Sur.</p>
--	---	---

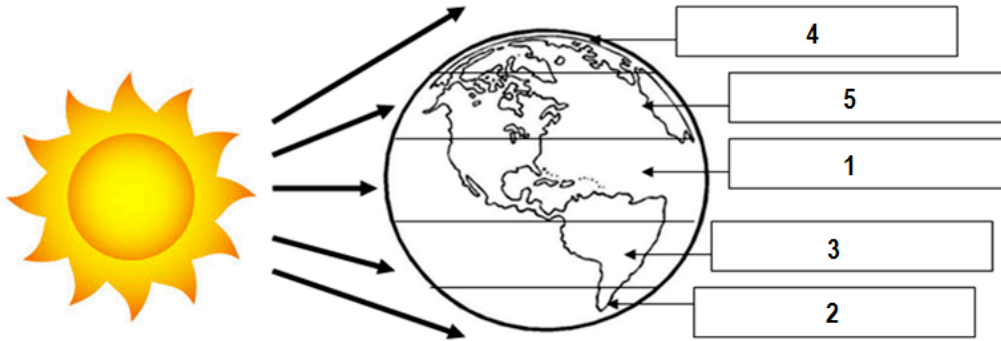
CÓMO LO HICE?

Evalúa tu desempeño ,pintando el semáforo que representa tu respuesta al resolver la guía.

					
LOGRADO	MEDIANAMENTE LOGRADO	POR LOGRAR			
INDICADORES		NIVEL DE DESEMPEÑO			
		<table border="1"> <tr> <td data-bbox="967 2099 1130 2212">L</td> <td data-bbox="1130 2099 1292 2212">ML</td> <td data-bbox="1292 2099 1433 2212">PL</td> </tr> </table>	L	ML	PL
L	ML	PL			
Manifiesto un estilo de trabajo ordenado y metódico.		<table border="1"> <tr> <td data-bbox="967 2212 1130 2284"><input type="checkbox"/></td> <td data-bbox="1130 2212 1292 2284"><input type="checkbox"/></td> <td data-bbox="1292 2212 1433 2284"><input type="checkbox"/></td> </tr> </table>	<input type="checkbox"/>	<input type="checkbox"/>	<input type="checkbox"/>
<input type="checkbox"/>	<input type="checkbox"/>	<input type="checkbox"/>			
Ubico en mapas las principales zonas climáticas del mundo.		<table border="1"> <tr> <td data-bbox="967 2284 1130 2352"><input type="checkbox"/></td> <td data-bbox="1130 2284 1292 2352"><input type="checkbox"/></td> <td data-bbox="1292 2284 1433 2352"><input type="checkbox"/></td> </tr> </table>	<input type="checkbox"/>	<input type="checkbox"/>	<input type="checkbox"/>
<input type="checkbox"/>	<input type="checkbox"/>	<input type="checkbox"/>			
Identifico el tipo de paisaje con su zona climática.		<table border="1"> <tr> <td data-bbox="967 2352 1130 2352"><input type="checkbox"/></td> <td data-bbox="1130 2352 1292 2352"><input type="checkbox"/></td> <td data-bbox="1292 2352 1433 2352"><input type="checkbox"/></td> </tr> </table>	<input type="checkbox"/>	<input type="checkbox"/>	<input type="checkbox"/>
<input type="checkbox"/>	<input type="checkbox"/>	<input type="checkbox"/>			

CORRECCIÓN

1. ESCRIBE EL NÚMERO DE CADA ZONA CLIMÁTICA EN EL LUGAR QUE CORRESPONDE.



2. ESCRIBE LA ZONA CLIMÁTICA REPRESENTADA EN CADA IMAGEN.

A. Zona templada	B. Zona cálida.	C. Zona fría
------------------	-----------------	--------------

3. ESCRIBE LETRA DE CADA ZONA CLIMÁTICA EN EL TIPO DE PAISAJE QUE CORRESPONDA.

PAISAJE MEDITERRÁNEO :C
PAISAJE DE TAIGA :A
SELVA :B